








Die Tabelle muss diese Werte enthalten:

1	2	3	
Teilfläche	$\bar{y}_{Si}$	$A_i$	
	$\frac{4}{3}a$	$16a^2$	
	$a$	$-9a^2$	
	$-\frac{16}{3\pi}a$	$8\pi a^2$	
	$-\frac{4}{\pi}a$	$-\frac{9}{2}\pi a^2$	
$\Sigma$			



Wenn Sie alle Werte richtig haben, dann ...

Wenn Sie falsche Werte haben:

- in der  $\bar{y}_{Si}$ -Spalte, dann ...
- in der  $A_i$ -Spalte, dann ...
- in beiden Spalten, dann ...

[113](#)

[110](#)

[112](#)

[110](#)